



SINCE 2013

# We Shine Academy®

guiding you to get through

TNPSC | TNUSRB | TRB | TET | SSC | BANK EXAM



We Shine Academy®

GUIDING YOU TO SUCCEED

## TNPSC BATCH TIMINGS

### OFFLINE CLASSES

6.30 AM - 8.30 AM

9.15 AM - 11.15 AM

11.30 AM - 1.30 PM

6.30 PM - 8.30 PM

#### WEEKEND CLASSES:

9 - 11 AM | 11 - 1 PM | 2 - 4 PM

### ONLINE CLASSES

6.30 AM - 8.30 AM

6.30 PM - 8.30 PM

#### WEEKEND CLASSES:

9 - 11 AM | 11 - 1 PM | 2 - 4 PM

ADMISSIONS OPEN!  
JOIN NOW!

### Our Branches:

Anna Nagar | Chrompet | Ambattur  
Salem-Attur | Thiruchengode | Batlagundu

RAMANATHAPURAM



Online & Offline Coaching Available



For Admission & Enquiry:

8939244344 | 8939144344



Official Websites:

<https://weshineacademy.com>

<https://www.weshineacademy.in>

FOCUS  
DISCIPLINE  
SUCCESS

- ✓ BEST FACULTY
- ✓ QUALITY CLASSES
- ✓ EXAM ORIENTED
- ✓ RESULT DRIVEN

# உளவியல் வினா விடை

In a code language, if 1 = C, 9 = L, 7 = E, 3 = M, 4 = S, 2 = A, 8 = U, then what is the code for MALCUM?

- A) 392183                      B) 391283                      C) 329183                      D) 319283

ஒரு சங்கேத (கோட்) மொழியில் 1 = C, 9 = L, 7 = E, 3 = M, 4 = S, 2 = A, 8 = U எனில் MALCUM ன் சங்கேதம்?

- A) 392183                      B) 391283                      C) 329183                      D) 319283

In a clock, what will be the angle of the minute hand at 12 o'clock?

- A)  $360^\circ$       B)  $180^\circ$       C)  $90^\circ$       D)  $30^\circ$

ஒரு கடிகாரத்தில், மணி காட்டும் முள்ளின் கோணம், 12 மணிக்கு என்னவாக இருக்கும்?

- A)  $360^\circ$       B)  $180^\circ$       C)  $90^\circ$       D)  $30^\circ$

A is more comfortable than B; C is more comfortable than A; D is more comfortable than C; E is more comfortable than all of them. If they are made to sit based on their comfort, who will be in the middle?

- A) A                      B) B                      C) C                      D) D

A ஆனவர் B ஐ விட வசதியானவர்; C ஆனவர் A ஐ விட வசதியானவர்; D ஆனவர் C ஐ விட வசதியானவர்; E ஆனவர் எல்லோரை விடவும் வசதியானவர் எனில் அவர்களை அவர்களின் வசதி அடிப்படையில் உட்கார வைத்தால் யார் நடுவில் இருப்பார்?

- A) A                      B) B                      C) C                      D) D

If Orange is called Butter, Butter is called Soap, Soap is called Ink, Ink is called Honey, Honey is called Orange, then which among the following is used for washing clothes?

A) Orange

B) Honey

C) Butter

D) Ink

ஆரஞ்சு வெண்ணை எனவும், வெண்ணை சோப்பு எனவும், சோப்பு இங்கு எனவும், இங்கு தேன் எனவும், தேன் ஆரஞ்சு எனவும் அழைக்கப்பட்டால் கீழ்க்கண்டவற்றுள் எது துணி துவைக்க பயன்படும்?

A) ஆரஞ்சு

B) தேன்

C) வெண்ணை

D) இங்கு

Which of the following equations is not suitable?

A)  $\sin\theta = 1$

B)  $\cos\theta = 1$

C)  $\sin\theta = 1/\sqrt{3}$

D)  $\cos\theta = \sqrt{2}$

கீழ்க்காணும் சமன்பாட்டில் எது பொருத்தமற்றது?

A)  $\sin\theta = 1$

B)  $\cos\theta = 1$

C)  $\sin\theta = 1/\sqrt{3}$

D)  $\cos\theta = \sqrt{2}$

What fraction is equal to 2/5%?

A) 1/40

B) 1/125

C) 1/250

D) 1/500

2/5% க்கு சமமான பின்னம்?

A) 1/40

B) 1/125

C) 1/250

D) 1/500

Choose the odd one out.

A) Yellow

B) White

C) Purple

D) Blue

வேறுபட்ட ஒன்றை தேர்ந்தெடுக்கவும்.

A) மஞ்சள்

B) வெள்ளை

C) ஊதா

D) நீலம்

08

உளவியல் வினா விடை PYQ

TNUSRB

\_ b c d b c \_ d c a b d \_ b c d b c \_ d c \_ b d

A) a a a a a

B) c c c c c

C) d d d d

D) b b b b b

Which word comes last in the English dictionary?

A) Short

B) Shirt

C) Ship

D) Shoes

ஆங்கில அகராதியில் இறுதியாக இடம்பெறும் சொல் எது?

A) Short

B) Shirt

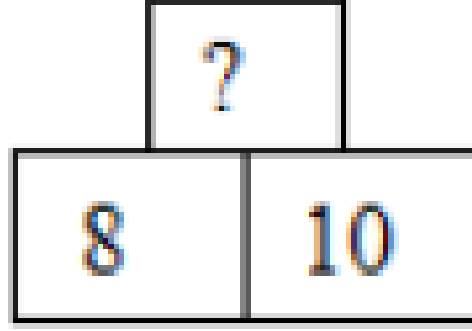
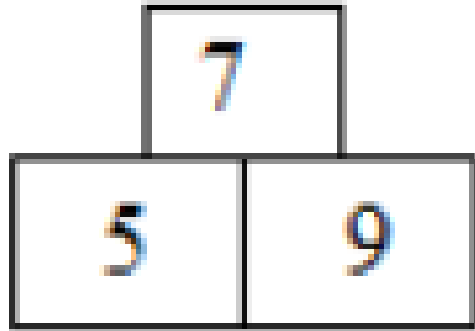
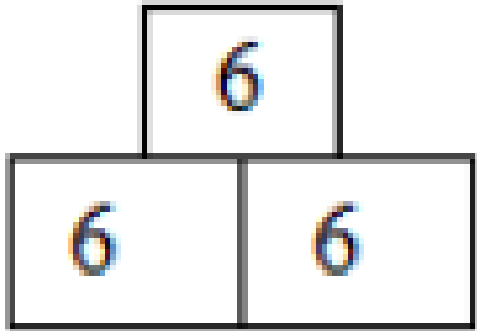
C) Ship

D) Shoes

10

உளவியல் வினா விடை PYQ

TNUSRB



A) 6

B) 7

C) 4

D) 9

1200 persons including soldiers and their leaders are travelling in a train. For every 15 soldiers there is one leader. What is the number of leaders in that group?

- A) 85                      B) 80                      C) 75                      D) 70

போர் வீரர்களும் அவர்களது தலைவர்களும் அடங்கிய 1200 பேர்கள் புகை வண்டியில் பிரயாணம் செய்து கொண்டுள்ளனர். ஒவ்வொரு 15 போர் வீரருக்கும் ஒரு தலைவர் உள்ளார் எனில் அந்த குழுவிலுள்ள தலைவர்களின் எண்ணிக்கை என்ன?

- A) 85                      B) 80                      C) 75                      D) 70

A person went hunting birds for a whole day and returned. When asked how many birds were in his bag, he said "all except six are sparrows, all except six are pigeons, all except six are peacocks". What is the total number of birds with him?

- A) 18                      B) 9                      C) 27                      D) 36

ஒருவர் ஒரு நாள் முழுவதும் பறவை வேட்டையாடி திரும்பினார். அவரது பையில் எத்தனை பறவைகள் உள்ளதென கேட்டபோது "ஆறு தவிர மற்றதெல்லாம் சிட்டுக்குருவிகள், ஆறு தவிர மற்றதெல்லாம் மாடப்புறாக்கள், ஆறு தவிர மற்றதெல்லாம் மணிப்புறாக்கள்" என்றார். மொத்தத்தில் அவரிடமிருந்து பறவைகளின் எண்ணிக்கை என்ன?

- A) 18                      B) 9                      C) 27                      D) 36

Murugan wrote an exam with questions of equal marks. He wrote ten questions wrongly. The correct marks obtained is 60%. How many questions were there in the exam?

- A) 15                      B) 20                      C) 25                      D) 30

முருகன் சம மதிப்பெண் உடைய கேள்விகள் கொண்ட தேர்வு எழுதினான். அவன் பத்து கேள்விகள் தவறாக எழுதினான். இதில் சரியான மதிப்பீடு 60% ஆனது. தேர்வில் எத்தனை கேள்விகள் இருந்தன?

- A) 15                      B) 20                      C) 25                      D) 30

In a code language, if 'Tamil' means 'Mathematics', 'Mathematics' means 'History', 'History' means 'Science', 'Science' means 'Economics', 'Economics' means 'English', then in which subject will information about 'Wars' be found?

- A) Economics                      B) Tamil                      C) Science                      D) History

ஒரு சங்கேத மொழியில் 'தமிழ்' என்பது 'கணிதம்' எனவும், 'கணிதம்' என்பது 'வரலாறு' எனவும், 'வரலாறு' என்பது 'அறிவியல்' எனவும், 'அறிவியல்' என்பது 'பொருளியல்' எனவும், 'பொருளியல்' என்பது 'ஆங்கிலம்' எனவும் குறிக்கப்பட்டால் 'போர்கள்' பற்றிய விவரம் எதில் இருக்கும்?

- A) பொருளியல்                      B) தமிழ்                      C) அறிவியல்                      D) வரலாறு

The present age ratio of 3 persons is 5 : 6 : 9. If the sum of their ages 7 years ago was 59, what is their present age?

A) 20, 24, 36

B) 24, 20, 36

C) 36, 24, 20

D) 36, 20, 24

3 நபர்களின் தற்போதைய வயது விகிதம் 5 : 6 : 9. 7

வருடங்களுக்கு முன்பு அவர்களின் வயது கூடுதல் 59 எனில் அவர்களின் தற்போதைய வயது என்ன?

A) 20, 24, 36

B) 24, 20, 36

C) 36, 24, 20

D) 36, 20, 24

Find the letter that comes first among: Obsessive, Observation, Observant, Observe

- A) Obsessive                      B) Observation                      C) Observant                      D) Observe

Obsessive, Observation, Observant, Observe இவற்றில் முதலாவதாக வரும் எழுத்தை காண்க.

- A) Obsessive                      B) Observation                      C) Observant                      D) Observe

Find the wrong number: 144, 169, 196, 225, 250, 256

- A) 250                      B) 225                      C) 196                      D) 144

144, 169, 196, 225, 250, 256 தவறான எண்ணை காண்க.

- A) 250                      B) 225                      C) 196                      D) 144

Keeping what has been learned in mind and later bringing it out

- A) Memory      B) Forgetting      C) Thinking      D) Personality

கற்றவற்றை மனதில் வைத்து பின் வெளிக் கொணர்தல்

- A) நினைவு      B) மறதி      C) சிந்தனை      D) ஆளுமை

If a dependent researcher wants to get a promotion in their job, what should they do?

- A) Promotion will come on its own
- B) Should give money
- C) Should work hard
- D) Should get the support of higher officials

சார்பு ஆய்வாளர் பணியில் உயர்பதவி அடைய வேண்டும் எனில் என்ன செய்ய வேண்டும்?

- A) தானாகவே உயர்பதவி கிடைக்கும்
- B) பணம் கொடுக்கவேண்டும்.
- C) கடுமையாக உழைக்கவேண்டும்
- D) உயர் அதிகாரிகளின் ஆரதவு பெற வேண்டும்.

If BHARATHIYAR is coded as 12 and GANDHI is coded as 7, then how will FREEDOM be coded?

- A) 8                      B) 7                      C) 9                      D) 6

BHARATHIYAR என்பது 12 என்றும் GANDHI என்பது 7 என்றும் குறிக்கப்பட்டால் FREEDOM எவ்வாறு குறிக்கப்படும்?

- A) 8                      B) 7                      C) 9                      D) 6

A large, faint watermark of the Weshine Academy logo is centered in the background. It is a circular emblem with an orange border. Inside the border, the text "SINCE 2013" is at the top, "Weshine Academy" is in the middle, and "Guiding you to get through" is at the bottom. The outer ring of the logo lists various exam types: "TNUSRB | TRB | TET | SSC | BANK EXAM".

# Thank You